

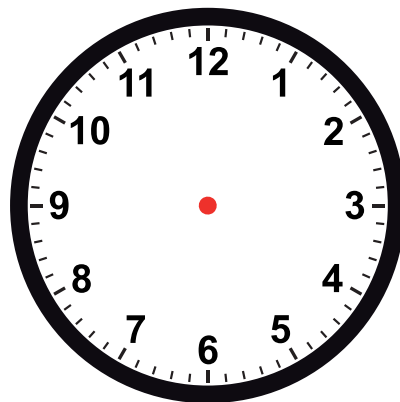
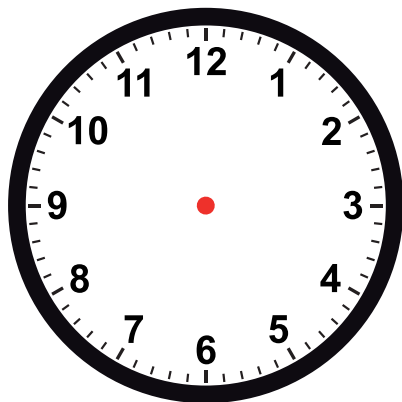
La main sur le chronomètre – Feuille-réponse

Consignes :

1. Inscris le nom de l'activité au-dessus de chaque horloge.
2. Indique, avec deux flèches noires, le début de l'activité. La petite flèche pointe les heures et la grosse flèche, les minutes.
3. Utilise des crayons de couleur pour colorier, sur chacune des horloges, la portion de temps correspondant à la durée de chacune des quatre activités chronométrées.
4. Inscris ensuite, au-dessous de chaque horloge, la durée de chaque activité.
Par exemple : 0 heures 10 minutes 0 secondes

Nom de l'activité 1:

Nom de l'activité 2:

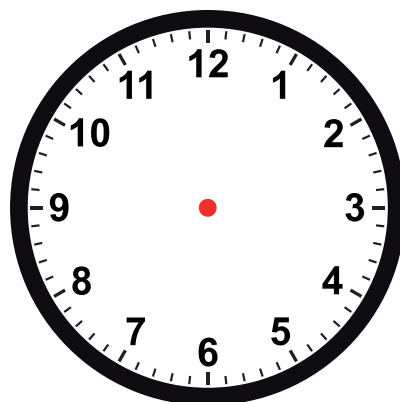
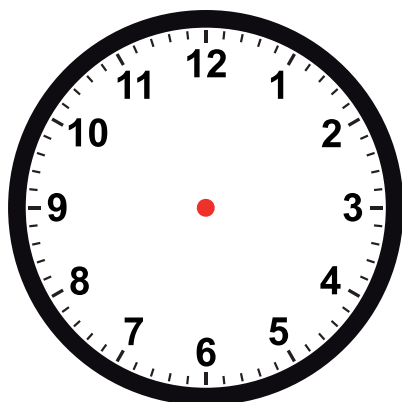


___ heures ___ minutes ___ secondes

___ heures ___ minutes ___ secondes

Nom de l'activité 3:

Nom de l'activité 4:

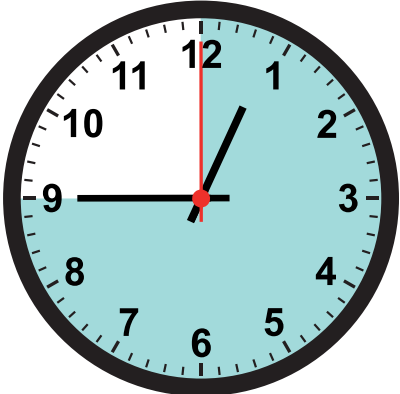
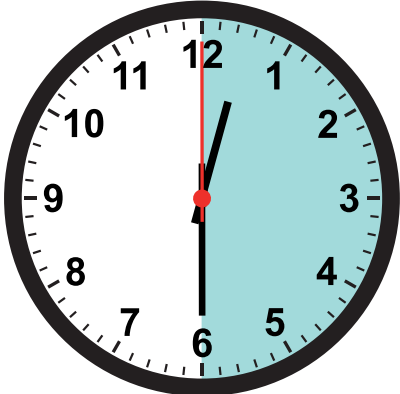
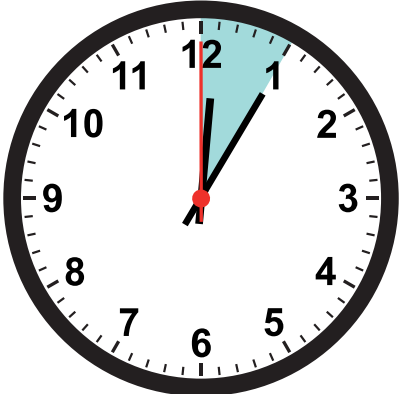
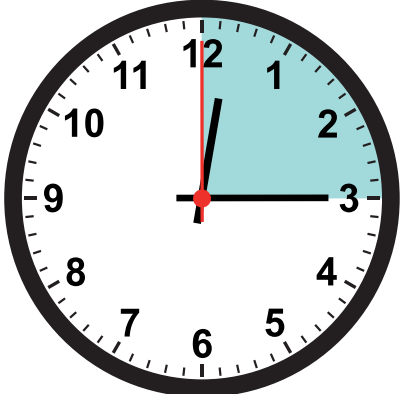


___ heures ___ minutes ___ secondes

___ heures ___ minutes ___ secondes

La main sur le chronomètre – Solutionnaire

À titre d'exemple seulement

<p>Nom de l'activité 1: Examen de Mathématique</p>	<p>Nom de l'activité 2: Période de lecture</p>
	
<p>0 heures 45 minutes 0 secondes</p>	<p>0 heures 30 minutes 0 secondes</p>
<p>Nom de l'activité 3: Dictée</p>	<p>Nom de l'activité 4: Discussion à propos des activités de la fin de semaine</p>
	
<p>0 heures 5 minutes 0 secondes</p>	<p>0 heures 15 minutes 0 secondes</p>